

**Analisi Matematica II**  
**Corso di Ingegneria Gestionale**  
**Compito del 05-07-2017**

- È obbligatorio consegnare tutti i fogli, anche la brutta e il testo.
- Le risposte senza giustificazione sono considerate nulle.

**Esercizio 1. (12 punti)** Data la funzione

$$f(x, y) = \begin{cases} \log\left(1 + \frac{x^2 - y^2}{x^2 + y^2}\right), & (x, y) \neq (0, 0) \\ 0, & (x, y) = (0, 0) \end{cases}$$

- i) determinare il dominio naturale di  $f$ ;
- ii) dire se esiste e, in caso affermativo, calcolare la derivata direzionale di  $f$  nel punto  $P = (0, 0)$  nella direzione  $v = \left(\sqrt{\frac{2}{3}}, \sqrt{\frac{1}{3}}\right)$ ;
- iii)\* determinare quali derivate direzionali di  $f$  esistono nel punto  $P = (0, 0)$ ;
- iv) determinare massimo e minimo di  $f(x, y)$  su

$$\Omega = \{(x, y) \in \mathbb{R}^2 : x^2 + y^2 \leq 4, y \geq 2(2 - x)\}.$$

**Esercizio 2. (8 punti)** Data la curva  $(\gamma, I)$ , con  $I = [-1, 1]$  e parametrizzazione

$$\gamma : [-1, 1] \rightarrow \mathbb{R}^2, \quad \gamma(t) = (2t^2 - 1, \sin(\pi t))$$

- i) scrivere l'equazione cartesiana della retta tangente al sostegno della curva nel punto  $P = \left(-\frac{7}{8}, \frac{1}{\sqrt{2}}\right)$ ;
- ii) calcolare il lavoro lungo  $(\gamma, I)$  del campo di vettori

$$\mathbf{F}(x, y) = \begin{pmatrix} x + y \\ 2y \end{pmatrix}$$

**Esercizio 3. (10 punti)** Calcolare l'area della superficie

$$\Sigma = \left\{ (x, y, z) \in \mathbb{R}^3 : x^2 + y^2 = 2z, x \geq 0, y \geq 0, 2z \leq 1, 2z \leq \frac{y^2}{x^2} \right\}$$

Può risultare utile sapere che  $\frac{d}{dt} \left( \log\left(\frac{1+\sin t}{\cos t}\right) + \frac{\sin t}{\cos^2 t} \right) = 2 \frac{1}{\cos^3 t}$

## Svolgimento

**Esercizio 1.** Data la funzione

$$f(x, y) = \begin{cases} \log\left(1 + \frac{x^2 - y^2}{x^2 + y^2}\right), & (x, y) \neq (0, 0) \\ 0, & (x, y) = (0, 0) \end{cases}$$

i) determinare il dominio naturale di  $f$ ;

Osserviamo che per  $(x, y) \neq (0, 0)$  possiamo scrivere

$$f(x, y) = \log\left(\frac{2x^2}{x^2 + y^2}\right)$$

che è dunque definita per  $x \neq 0$ . Poiché la funzione è poi definita separatamente in  $(0, 0)$ , possiamo concludere che il dominio naturale di  $f(x, y)$  è  $D = \{(x, y) \in \mathbb{R}^2 : x \neq 0\} \cup \{(0, 0)\}$ .

ii) dire se esiste e, in caso affermativo, calcolare la derivata direzionale di  $f$  nel punto  $P = (0, 0)$  nella direzione  $v = \left(\sqrt{\frac{2}{3}}, \sqrt{\frac{1}{3}}\right)$ ;

Usando la definizione della funzione non possiamo ricavare informazioni sulla differenziabilità nel punto  $P$ . Per studiare l'esistenza della derivata direzionale dobbiamo dunque usare la definizione, ossia studiare l'esistenza del limite

$$\begin{aligned} \lim_{t \rightarrow 0} \frac{f(P + tv) - f(P)}{t} &= \lim_{t \rightarrow 0} \frac{f\left(0 + t\sqrt{\frac{2}{3}}, 0 + t\sqrt{\frac{1}{3}}\right) - f(0, 0)}{t} = \\ &= \lim_{t \rightarrow 0} \frac{\log\left(1 + \frac{t^2\left(\frac{2}{3} - \frac{1}{3}\right)}{t^2\left(\frac{2}{3} + \frac{1}{3}\right)}\right) - 0}{t} = \lim_{t \rightarrow 0} \frac{\log\left(\frac{4}{3}\right) - 0}{t} \end{aligned}$$

Il limite precedente non esiste finito (limite destro e sinistro non sono finiti, e non coincidono), dunque la derivata direzionale studiata non esiste.

iii) determinare quali derivate direzionali di  $f$  esistono nel punto  $P = (0, 0)$ ;

Dobbiamo ragionare come nel punto ii), nel caso di un vettore generico  $v = (v_1, v_2)$  di norma  $\|v\| = 1$ . Studiamo dunque l'esistenza di un valore finito per il limite

$$\begin{aligned} \lim_{t \rightarrow 0} \frac{f(P + tv) - f(P)}{t} &= \lim_{t \rightarrow 0} \frac{f(0 + tv_1, 0 + tv_2) - f(0, 0)}{t} = \\ &= \lim_{t \rightarrow 0} \frac{\log\left(1 + \frac{t^2(v_1^2 - v_2^2)}{t^2(v_1^2 + v_2^2)}\right) - 0}{t} = \lim_{t \rightarrow 0} \frac{\log(1 + (v_1^2 - v_2^2)) - 0}{t} \end{aligned}$$

Innanzitutto dobbiamo escludere il caso  $v = (0, 1)$  per restare nel dominio naturale della funzione. Dall'espressione del limite che abbiamo ottenuto, si nota che il limite certamente non esiste finito in tutti i casi in cui  $(v_1^2 - v_2^2) \neq 0$ .

Se invece  $(v_1^2 - v_2^2) = 0$ , che si ha nei quattro casi  $v = (\pm\sqrt{\frac{1}{2}}, \pm\sqrt{\frac{1}{2}})$ , allora il limite esiste finito ed è uguale a 0.

Concludiamo dunque che la derivata direzionale in  $P = (0, 0)$  esiste solo nelle direzioni  $v = (\pm\sqrt{\frac{1}{2}}, \pm\sqrt{\frac{1}{2}})$ .

iii) determinare massimo e minimo di  $f(x, y)$  su

$$\Omega = \{(x, y) \in \mathbb{R}^2 : x^2 + y^2 \leq 4, y \geq 2(2 - x)\} .$$

L'insieme  $\Omega$  è rappresentato nella figura 1. Per studiare massimo e minimo assoluto di  $f$  su  $\Omega$

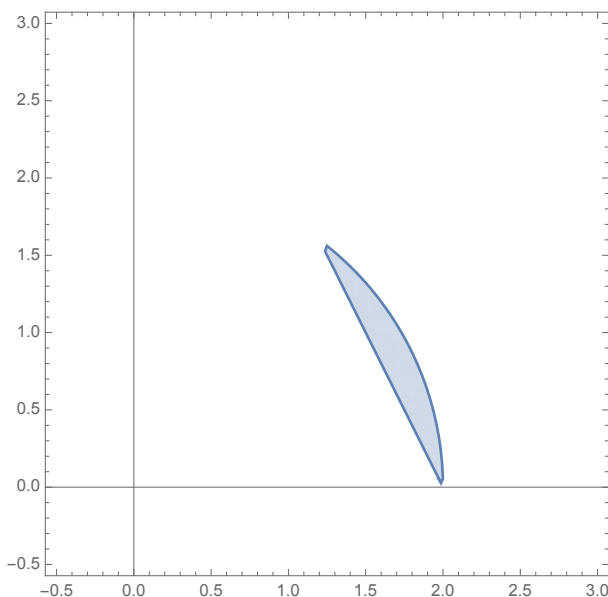


Figure 1: L'insieme  $\Omega$ .

dobbiamo considerare i valori che la funzione assume su eventuali punti di non differenziabilità, sui punti critici liberi interni a  $\Omega$ , sui punti critici vincolati al bordo di  $\Omega$  e sugli eventuali spigoli del bordo.

La funzione  $f$  è certamente differenziabile in  $\Omega$ , perché composizione di funzioni differenziabili. Nei punti di  $\overset{\circ}{\Omega}$  calcoliamo allora il gradiente

$$\nabla f(x, y) = \begin{pmatrix} \frac{2y^2}{x(x^2+y^2)} \\ -\frac{2y}{x^2+y^2} \end{pmatrix}$$

per cui gli unici punti critici liberi di  $f$  si trovano sull'asse delle ascisse, e non sono dunque interni a  $\Omega$ .

Ci rimane da studiare il comportamento di  $f$  sul bordo di  $\bar{\Omega}$ . Gli spigoli sono i punti

$$S_1 = \begin{pmatrix} 2 \\ 0 \end{pmatrix} \quad S_2 = \begin{pmatrix} \frac{6}{5} \\ \frac{8}{5} \end{pmatrix} .$$

La funzione  $f$  è differenziabile su tutto il bordo come detto prima. Il bordo lo dividiamo in due parti:

$$\Gamma_1 = \left\{ x^2 + y^2 = 4, \frac{6}{5} \leq x \leq 2 \right\}$$

$$\Gamma_2 = \left\{ y = 2(2-x), \frac{6}{5} \leq x \leq 2 \right\}.$$

Per quanto riguarda  $\Gamma_1$  possiamo usare la parametrizzazione

$$\gamma_1(t) = (2 \cos t, 2 \sin t), \quad t \in [0, \bar{t}],$$

con  $\tan \bar{t} = \frac{4}{3}$  e  $\bar{t} \in [0, \frac{\pi}{2}]$ . Componendo con  $f$  troviamo la funzione di una variabile

$$g_1(t) = f(\gamma_1(t)) = \log(1 + \cos^2 t - \sin^2 t) = \log(2 \cos^2 t), \quad t \in [0, \bar{t}].$$

Risulta  $g_1'(t) = -2 \tan t$ , e dunque non ci sono punti critici in  $(0, \bar{t})$ .

Passiamo a  $\Gamma_2$ , per cui possiamo usare la parametrizzazione

$$\gamma_2(t) = (t, 2(2-t)), \quad t \in \left[ \frac{6}{5}, 2 \right]$$

e componendo con  $f$  troviamo la funzione di una variabile

$$g_2(t) = f(\gamma_2(t)) = \log\left(\frac{2t^2}{5t^2 - 16t + 16}\right), \quad t \in \left[ \frac{6}{5}, 2 \right]$$

Abbiamo  $g_2'(t) = \frac{16(2-t)}{t(5t^2 - 16t + 16)}$ , e dunque non ci sono punti critici in  $(\frac{6}{5}, 2)$ .

I valori che dobbiamo confrontare sono dunque

$$f(S_1) = \log(2) \quad \text{e} \quad f(S_2) = \log\left(\frac{18}{25}\right).$$

Dunque il massimo di  $f$  è  $\log(2)$  e il minimo è  $\log\left(\frac{18}{25}\right)$ .

**Esercizio 2.** Data la curva  $(\gamma, I)$ , con  $I = [-1, 1]$  e parametrizzazione

$$\gamma : [-1, 1] \rightarrow \mathbb{R}^2, \quad \gamma(t) = (2t^2 - 1, \sin(\pi t))$$

i) scrivere l'equazione cartesiana della retta tangente al sostegno della curva nel punto

$$P = \left(-\frac{7}{8}, \frac{1}{\sqrt{2}}\right);$$

La parametrizzazione  $\gamma(t)$  è di classe  $C^1$ , quindi la retta tangente al sostegno della curva esiste in tutti i punti che corrispondono ai valori del parametro  $t \in (-1, 1)$  per cui  $\gamma'(t) \neq 0$ . In particolare per  $P = \left(-\frac{7}{8}, \frac{1}{\sqrt{2}}\right)$  troviamo innanzitutto  $t_0 \in (-1, 1)$  tale che  $\gamma(t_0) = P$ , quindi risolviamo il sistema

$$\begin{cases} 2t_0^2 - 1 = -\frac{7}{8} \\ \sin(\pi t_0) = \frac{1}{\sqrt{2}} \end{cases}$$

Dalla prima equazione si ricava  $t_0 = \pm \frac{1}{4}$ , e sostituendo nella seconda si ottiene  $t_0 = \frac{1}{4}$ . La retta tangente al sostegno nel punto  $P$  è quindi generata dal vettore velocità

$$\gamma'(t_0) = \begin{pmatrix} 4t_0 \\ \pi \cos(\pi t_0) \end{pmatrix} = \begin{pmatrix} 1 \\ \frac{\pi}{\sqrt{2}} \end{pmatrix}$$

e un vettore normale al sostegno nel punto  $P$  è quindi

$$\vec{n} = \begin{pmatrix} \frac{\pi}{\sqrt{2}} \\ -1 \end{pmatrix}$$

L'equazione cartesiana cercata è allora

$$\frac{\pi}{\sqrt{2}} \left( x + \frac{7}{8} \right) - \left( y - \frac{1}{\sqrt{2}} \right) = 0.$$

ii) calcolare il lavoro lungo  $(\gamma, I)$  del campo di vettori

$$\mathbf{F}(x, y) = \begin{pmatrix} x + y \\ 2y \end{pmatrix}$$

Studiamo innanzitutto le proprietà del campo  $\mathbf{F}$ . Il suo dominio è  $\mathbb{R}^2$  e

$$\text{rot}(\mathbf{F})(x, y) = \frac{\partial F_2}{\partial x}(x, y) - \frac{\partial F_1}{\partial y}(x, y) = -1.$$

Quindi il campo  $\mathbf{F}$  non è irrotazionale.

Studiamo le proprietà della curva  $(\gamma, I)$ . La curva è chiusa, essendo  $\gamma(-1) = (1, 0) = \gamma(1)$ , e il sostegno è disegnato in figura 2. Per il calcolo del lavoro possiamo utilizzare la definizione o

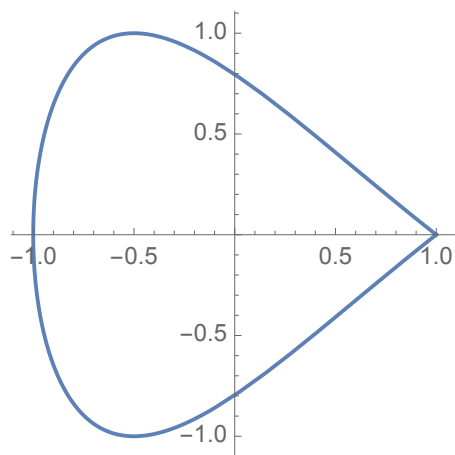


Figure 2: Il sostegno della curva  $(\gamma, I)$ .

il Teorema del Rotore, le cui ipotesi sono facilmente soddisfatte. Usando la definizione di lavoro scriviamo

$$\begin{aligned} L(\mathbf{F}, \gamma) &= \int_{-1}^1 \langle \mathbf{F}(\gamma(t)), \gamma'(t) \rangle dt = \int_{-1}^1 \left\langle \begin{pmatrix} 2t^2 - 1 + \sin(\pi t) \\ 2 \sin(\pi t) \end{pmatrix}, \begin{pmatrix} 4t \\ \pi \cos(\pi t) \end{pmatrix} \right\rangle dt = \\ &= \int_{-1}^1 \left( 4t(2t^2 - 1) + 4t \sin(\pi t) + 2\pi \sin(\pi t) \cos(\pi t) \right) dt = \int_{-1}^1 4t \sin(\pi t) dt \end{aligned}$$

infatti  $t(2t^2 - 1)$  e  $\sin(\pi t) \cos(\pi t)$  sono dispari, e quindi il loro integrale tra -1 e 1 è nullo. Dunque

$$L(\mathbf{F}, \gamma) = \int_{-1}^1 4t \sin(\pi t) dt = -\frac{4}{\pi} t \cos(\pi t) \Big|_{-1}^1 + \frac{4}{\pi} \int_{-1}^1 \cos(\pi t) dt = \frac{8}{\pi}.$$

Svolgendo l'esercizio usando il Teorema del Rotore, dobbiamo invece scrivere innanzitutto l'insieme  $U$ , la parte del piano racchiusa dalla curva, come insieme semplice. Dalla parametrizzazione si ottiene che per  $y \geq 0$ , il sostegno è il grafico della funzione  $y = \sin\left(\pi\sqrt{\frac{x+1}{2}}\right)$  con  $x \in [-1, 1]$ . Inoltre il sostegno è simmetrico rispetto all'asse delle ascisse. Possiamo concludere che

$$U = \left\{ (x, y) \in \mathbb{R}^2 : -1 \leq x \leq 1, -\sin\left(\pi\sqrt{\frac{x+1}{2}}\right) \leq y \leq \sin\left(\pi\sqrt{\frac{x+1}{2}}\right) \right\}$$

e scrivere quindi, osservando che la curva è percorsa in senso orario,

$$\begin{aligned} L(\mathbf{F}, \gamma) &= - \iint_U \text{rot}(\mathbf{F})(x, y) dx dy = \iint_U 1 dx dy = \\ &= \int_{-1}^1 \left( \int_{-\sin\left(\pi\sqrt{\frac{x+1}{2}}\right)}^{\sin\left(\pi\sqrt{\frac{x+1}{2}}\right)} 1 dy \right) dx = 2 \int_{-1}^1 \sin\left(\pi\sqrt{\frac{x+1}{2}}\right) dx \end{aligned}$$

e con il cambio di variabile  $t = \sqrt{\frac{x+1}{2}}$  si ottiene

$$L(\mathbf{F}, \gamma) = 2 \int_0^1 4t \sin(\pi t) dt = -\frac{8}{\pi} t \cos(\pi t) \Big|_0^1 + \frac{8}{\pi} \int_0^1 \cos(\pi t) dt = \frac{8}{\pi}$$

**Esercizio 3.** Calcolare l'area della superficie

$$\Sigma = \left\{ (x, y, z) \in \mathbb{R}^3 : x^2 + y^2 = 2z, x \geq 0, y \geq 0, 2z \leq 1, 2z \leq \frac{y^2}{x^2} \right\}$$

La superficie  $\Sigma$  è rappresentata in figura 3, ed è una parte del paraboloido  $x^2 + y^2 = 2z$ , che consideriamo come superficie di rotazione, ottenuta facendo ruotare intorno all'asse  $z$  il grafico della funzione  $g(z) = \sqrt{2z}$ , definita in  $(0, +\infty)$ . Se usiamo la parametrizzazione del paraboloido come

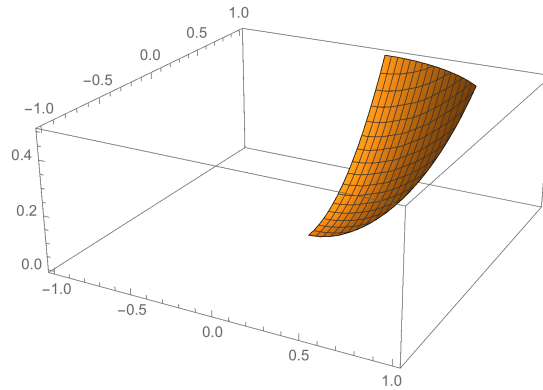


Figure 3: La superficie  $\Sigma$ .

superficie di rotazione, scriviamo che  $\Sigma = \sigma(D)$  dove

$$\sigma : D \rightarrow \mathbb{R}^3 \quad \text{con} \quad \sigma(t, \varphi) = (\sqrt{2t} \cos \varphi, \sqrt{2t} \sin \varphi, t)$$

e l'insieme  $D$  si ottiene come sottoinsieme di  $(0, +\infty) \times [0, 2\pi]$  aggiungendo le restrizioni nella definizione di  $\Sigma$ , dunque

$$D = \left\{ (t, \varphi) \in (0, +\infty) \times [0, 2\pi] : \sqrt{2t} \cos \varphi \geq 0, \sqrt{2t} \sin \varphi \geq 0, 2t \leq 1, 2t \leq \tan^2 \varphi \right\}$$

Le prime tre condizioni si riscrivono come

$$\varphi \in \left[0, \frac{\pi}{2}\right] \quad \text{e} \quad t \in \left[0, \frac{1}{2}\right],$$

e insieme all'ultima condizione, permettono di disegnare l'insieme  $D$  come in figura 4 (con  $t$  sulle ascisse e  $\varphi$  sulle ordinate). Per scriverlo come insieme semplice rispetto alla  $t$ , dobbiamo ricavare

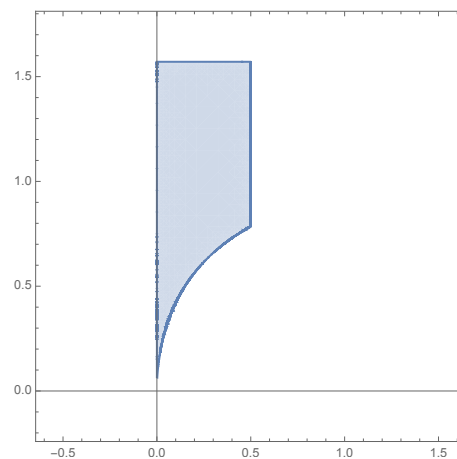


Figure 4: L'insieme  $D$ .

la soluzione di  $\frac{1}{2} \tan^2 \varphi = \frac{1}{2}$  in  $[0, \frac{\pi}{2}]$ , che è  $\bar{\varphi} = \frac{\pi}{4}$ . Quindi scriviamo  $D$  come

$$D = \left\{ (t, \varphi) : 0 \leq \varphi \leq \frac{\pi}{4}, 0 \leq t \leq \frac{1}{2} \tan^2 \varphi \right\} \cup \left\{ (t, \varphi) : \frac{\pi}{4} \leq \varphi \leq \frac{\pi}{2}, 0 \leq t \leq \frac{1}{2} \right\}$$

Infine ricordiamo che l'area di una superficie si calcola come

$$\text{Area}(\Sigma) = \iint_{\Sigma} 1 \, dS = \iint_D \|n(t, \varphi)\| \, dt d\varphi.$$

Dalla definizione di  $\sigma(t, \varphi)$  ricaviamo

$$J_{\sigma}(t, \varphi) = \begin{pmatrix} \frac{1}{\sqrt{2t}} \cos \varphi & -\sqrt{2t} \sin \varphi \\ \frac{1}{\sqrt{2t}} \sin \varphi & \sqrt{2t} \cos \varphi \\ 1 & 0 \end{pmatrix} \quad \text{e} \quad n(t, \varphi) = \begin{pmatrix} -\sqrt{2t} \cos \varphi \\ -\sqrt{2t} \sin \varphi \\ 1 \end{pmatrix}$$

Quindi

$$\|n(t, \varphi)\| = \sqrt{2t+1}$$

e abbiamo

$$\begin{aligned} \text{Area}(\Sigma) &= \iint_D \sqrt{2t+1} \, dt d\varphi = \\ &= \int_0^{\frac{\pi}{4}} \left( \int_0^{\frac{1}{2} \tan^2 \varphi} \sqrt{2t+1} \, dt \right) d\varphi + \int_{\frac{\pi}{4}}^{\frac{\pi}{2}} \left( \int_0^{\frac{1}{2}} \sqrt{2t+1} \, dt \right) d\varphi = \\ &= \int_0^{\frac{\pi}{4}} \frac{1}{3} (2t+1)^{\frac{3}{2}} \Big|_0^{\frac{1}{2} \tan^2 \varphi} d\varphi + \int_{\frac{\pi}{4}}^{\frac{\pi}{2}} \frac{1}{3} (2t+1)^{\frac{3}{2}} \Big|_0^{\frac{1}{2}} d\varphi = \\ &= \int_0^{\frac{\pi}{4}} \left( \frac{1}{3 \cos^3 \varphi} - \frac{1}{3} \right) d\varphi + \int_{\frac{\pi}{4}}^{\frac{\pi}{2}} \left( \frac{2^{\frac{3}{2}}}{3} - \frac{1}{3} \right) d\varphi = \\ &= \left[ \frac{1}{6} \left( \log \left( \frac{1 + \sin \varphi}{\cos \varphi} \right) + \frac{\sin \varphi}{\cos^2 \varphi} \right) - \frac{1}{3} \varphi \right] \Big|_0^{\frac{\pi}{4}} + \left( \frac{2\sqrt{2}}{3} - \frac{1}{3} \right) \varphi \Big|_{\frac{\pi}{4}}^{\frac{\pi}{2}} = \\ &= \frac{1}{6} \left( \log(\sqrt{2}+1) + \sqrt{2} + \pi(\sqrt{2}-1) \right). \end{aligned}$$



**Analisi Matematica II**  
**Corso di Ingegneria Gestionale**  
**Compito del 05-07-2017**

- È obbligatorio consegnare tutti i fogli, anche la brutta e il testo.
- Le risposte senza giustificazione sono considerate nulle.

**Esercizio 1. (12 punti)** Data la funzione

$$f(x, y) = \begin{cases} \log\left(1 + \frac{2x^2 - y^2}{x^2 + y^2}\right), & (x, y) \neq (0, 0) \\ 0, & (x, y) = (0, 0) \end{cases}$$

- i) determinare il dominio naturale di  $f$ ;
- ii) dire se esiste e, in caso affermativo, calcolare la derivata direzionale di  $f$  nel punto  $P = (0, 0)$  nella direzione  $v = \left(\sqrt{\frac{1}{3}}, \sqrt{\frac{2}{3}}\right)$ ;
- iii)\* determinare quali derivate direzionali di  $f$  esistono nel punto  $P = (0, 0)$ ;
- iv) determinare massimo e minimo di  $f(x, y)$  su

$$\Omega = \{(x, y) \in \mathbb{R}^2 : x^2 + y^2 \leq 1, y \geq 2(1 - x)\} .$$

**Esercizio 2. (8 punti)** Data la curva  $(\gamma, I)$ , con  $I = [-1, 1]$  e parametrizzazione

$$\gamma : [-1, 1] \rightarrow \mathbb{R}^2, \quad \gamma(t) = \left(\sin(\pi t), 2t^2 - 1\right)$$

- i) scrivere l'equazione cartesiana della retta tangente al sostegno della curva nel punto  $P = \left(\frac{1}{\sqrt{2}}, \frac{1}{8}\right)$ ;
- ii) calcolare il lavoro lungo  $(\gamma, I)$  del campo di vettori

$$\mathbf{F}(x, y) = \begin{pmatrix} -2x \\ x + 5y \end{pmatrix}$$

**Esercizio 3. (10 punti)** Calcolare l'area della superficie

$$\Sigma = \left\{ (x, y, z) \in \mathbb{R}^3 : x^2 + y^2 = 2z, x \geq 0, y \geq 0, 2z \leq 1, 2z \leq \frac{y^2}{x^2} \right\}$$

Può risultare utile sapere che  $\frac{d}{dt} \left( \log\left(\frac{1+\sin t}{\cos t}\right) + \frac{\sin t}{\cos^2 t} \right) = 2 \frac{1}{\cos^3 t}$

## Svolgimento

**Esercizio 1.** Data la funzione

$$f(x, y) = \begin{cases} \log\left(1 + \frac{2x^2 - y^2}{x^2 + y^2}\right), & (x, y) \neq (0, 0) \\ 0, & (x, y) = (0, 0) \end{cases}$$

i) determinare il dominio naturale di  $f$ ;

Osserviamo che per  $(x, y) \neq (0, 0)$  possiamo scrivere

$$f(x, y) = \log\left(\frac{3x^2}{x^2 + y^2}\right)$$

che è dunque definita per  $x \neq 0$ . Poiché la funzione è poi definita separatamente in  $(0, 0)$ , possiamo concludere che il dominio naturale di  $f(x, y)$  è  $D = \{(x, y) \in \mathbb{R}^2 : x \neq 0\} \cup \{(0, 0)\}$ .

ii) dire se esiste e, in caso affermativo, calcolare la derivata direzionale di  $f$  nel punto  $P = (0, 0)$  nella direzione  $v = \left(\sqrt{\frac{1}{3}}, \sqrt{\frac{2}{3}}\right)$ ;

Usando la definizione della funzione non possiamo ricavare informazioni sulla differenziabilità nel punto  $P$ . Per studiare l'esistenza della derivata direzionale dobbiamo dunque usare la definizione, ossia studiare l'esistenza del limite

$$\begin{aligned} \lim_{t \rightarrow 0} \frac{f(P + tv) - f(P)}{t} &= \lim_{t \rightarrow 0} \frac{f\left(0 + t\sqrt{\frac{1}{3}}, 0 + t\sqrt{\frac{2}{3}}\right) - f(0, 0)}{t} = \\ &= \lim_{t \rightarrow 0} \frac{\log\left(1 + \frac{t^2(\frac{2}{3} - \frac{2}{3})}{t^2(\frac{1}{3} + \frac{2}{3})}\right) - 0}{t} = \lim_{t \rightarrow 0} \frac{\log(1) - 0}{t} = 0. \end{aligned}$$

Dunque la derivata direzionale esiste e vale 0.

iii) determinare quali derivate direzionali di  $f$  esistono nel punto  $P = (0, 0)$ ;

Dobbiamo ragionare come nel punto ii), nel caso di un vettore generico  $v = (v_1, v_2)$  di norma  $\|v\| = 1$ . Studiamo dunque l'esistenza di un valore finito per il limite

$$\begin{aligned} \lim_{t \rightarrow 0} \frac{f(P + tv) - f(P)}{t} &= \lim_{t \rightarrow 0} \frac{f(0 + tv_1, 0 + tv_2) - f(0, 0)}{t} = \\ &= \lim_{t \rightarrow 0} \frac{\log\left(1 + \frac{t^2(2v_1^2 - v_2^2)}{t^2(v_1^2 + v_2^2)}\right) - 0}{t} = \lim_{t \rightarrow 0} \frac{\log(1 + (2v_1^2 - v_2^2)) - 0}{t} \end{aligned}$$

Innanzitutto dobbiamo escludere il caso  $v = (0, 1)$  per restare nel dominio naturale della funzione. Dall'espressione del limite che abbiamo ottenuto, si nota che il limite certamente non esiste finito in tutti i casi in cui  $(2v_1^2 - v_2^2) \neq 0$ .

Se invece  $(2v_1^2 - v_2^2) = 0$ , che si ha nei quattro casi  $v = (\pm\sqrt{\frac{1}{3}}, \pm\sqrt{\frac{2}{3}})$ , allora il limite esiste finito ed è uguale a 0.

Concludiamo dunque che la derivata direzionale in  $P = (0,0)$  esiste solo nelle direzioni  $v = (\pm\sqrt{\frac{1}{3}}, \pm\sqrt{\frac{2}{3}})$ .

iii) determinare massimo e minimo di  $f(x,y)$  su

$$\Omega = \{(x,y) \in \mathbb{R}^2 : x^2 + y^2 \leq 1, y \geq 2(1-x)\} .$$

L'insieme  $\Omega$  è rappresentato nella figura 5. Per studiare massimo e minimo assoluto di  $f$  su  $\Omega$

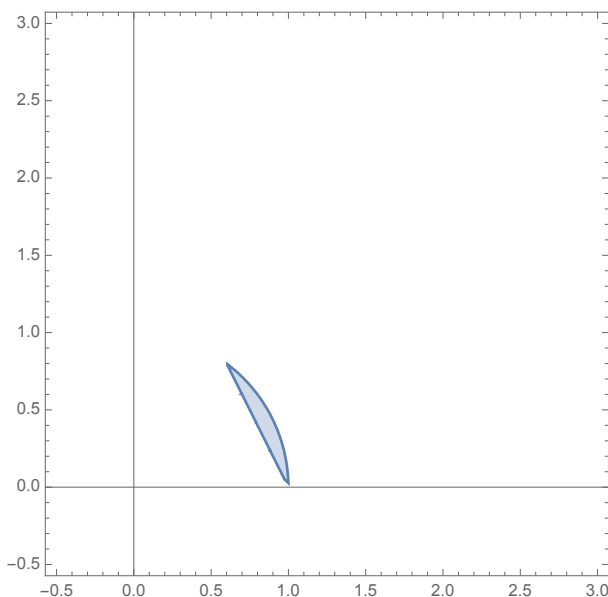


Figure 5: L'insieme  $\Omega$ .

dobbiamo considerare i valori che la funzione assume su eventuali punti di non differenziabilità, sui punti critici liberi interni a  $\Omega$ , sui punti critici vincolati al bordo di  $\Omega$  e sugli eventuali spigoli del bordo.

La funzione  $f$  è certamente differenziabile in  $\Omega$ , perché composizione di funzioni differenziabili. Nei punti di  $\overset{\circ}{\Omega}$  calcoliamo allora il gradiente

$$\nabla f(x,y) = \begin{pmatrix} \frac{2y^2}{x(x^2+y^2)} \\ -\frac{2y}{x^2+y^2} \end{pmatrix}$$

per cui gli unici punti critici liberi di  $f$  si trovano sull'asse delle ascisse, e non sono dunque interni a  $\Omega$ .

Ci rimane da studiare il comportamento di  $f$  sul bordo di  $\bar{\Omega}$ . Gli spigoli sono i punti

$$S_1 = \begin{pmatrix} 1 \\ 0 \end{pmatrix} \quad S_2 = \begin{pmatrix} \frac{3}{5} \\ \frac{4}{5} \end{pmatrix} .$$

La funzione  $f$  è differenziabile su tutto il bordo come detto prima. Il bordo lo dividiamo in due parti:

$$\Gamma_1 = \left\{ x^2 + y^2 = 1, \frac{3}{5} \leq x \leq 1 \right\}$$

$$\Gamma_2 = \left\{ y = 2(1-x), \frac{3}{5} \leq x \leq 1 \right\}.$$

Per quanto riguarda  $\Gamma_1$  possiamo usare la parametrizzazione

$$\gamma_1(t) = (\cos t, \sin t), \quad t \in [0, \bar{t}],$$

con  $\tan \bar{t} = \frac{4}{3}$  e  $\bar{t} \in [0, \frac{\pi}{2}]$ . Componendo con  $f$  troviamo la funzione di una variabile

$$g_1(t) = f(\gamma_1(t)) = \log(1 + 2\cos^2 t - \sin^2 t) = \log(3\cos^2 t), \quad t \in [0, \bar{t}].$$

Risulta  $g_1'(t) = -2\tan t$ , e dunque non ci sono punti critici in  $(0, \bar{t})$ .

Passiamo a  $\Gamma_2$ , per cui possiamo usare la parametrizzazione

$$\gamma_2(t) = (t, 2(1-t)), \quad t \in \left[ \frac{3}{5}, 1 \right]$$

e componendo con  $f$  troviamo la funzione di una variabile

$$g_2(t) = f(\gamma_2(t)) = \log\left(\frac{3t^2}{5t^2 - 8t + 3}\right), \quad t \in \left[ \frac{3}{5}, 1 \right]$$

Abbiamo  $g_2'(t) = \frac{8(1-t)}{t(5t^2 - 8t + 4)}$ , e dunque non ci sono punti critici in  $(\frac{3}{5}, 1)$ .

I valori che dobbiamo confrontare sono dunque

$$f(S_1) = \log(3) \quad \text{e} \quad f(S_2) = \log\left(\frac{27}{25}\right).$$

Dunque il massimo di  $f$  è  $\log(3)$  e il minimo è  $\log\left(\frac{27}{25}\right)$ .

**Esercizio 2.** Data la curva  $(\gamma, I)$ , con  $I = [-1, 1]$  e parametrizzazione

$$\gamma : [-1, 1] \rightarrow \mathbb{R}^2, \quad \gamma(t) = \left( \sin(\pi t), 2t^2 - 1 \right)$$

*i) scrivere l'equazione cartesiana della retta tangente al sostegno della curva nel punto*

$$P = \left( \frac{1}{\sqrt{2}}, \frac{1}{8} \right);$$

La parametrizzazione  $\gamma(t)$  è di classe  $C^1$ , quindi la retta tangente al sostegno della curva esiste in tutti i punti che corrispondono ai valori del parametro  $t \in (-1, 1)$  per cui  $\gamma'(t) \neq 0$ . In particolare per  $P = \left( \frac{1}{\sqrt{2}}, \frac{1}{8} \right)$  troviamo innanzitutto  $t_0 \in (-1, 1)$  tale che  $\gamma(t_0) = P$ , quindi risolviamo il sistema

$$\begin{cases} \sin(\pi t_0) = \frac{1}{\sqrt{2}} \\ 2t_0^2 - 1 = \frac{1}{8} \end{cases}$$

Dalla seconda equazione si ricava  $t_0 = \pm \frac{3}{4}$ , e sostituendo nella prima si ottiene  $t_0 = \frac{3}{4}$ . La retta tangente al sostegno nel punto  $P$  è quindi generata dal vettore velocità

$$\gamma'(t_0) = \begin{pmatrix} \pi \cos(\pi t_0) \\ 4t_0 \end{pmatrix} = \begin{pmatrix} -\frac{\pi}{\sqrt{2}} \\ 3 \end{pmatrix}$$

e un vettore normale al sostegno nel punto  $P$  è quindi

$$\vec{n} = \begin{pmatrix} 3 \\ \frac{\pi}{\sqrt{2}} \end{pmatrix}$$

L'equazione cartesiana cercata è allora

$$3 \left( x - \frac{1}{\sqrt{2}} \right) + \frac{\pi}{\sqrt{2}} \left( y - \frac{1}{8} \right) = 0.$$

ii) *calcolare il lavoro lungo  $(\gamma, I)$  del campo di vettori*

$$\mathbf{F}(x, y) = \begin{pmatrix} -2x \\ x + 5y \end{pmatrix}$$

Studiamo innanzitutto le proprietà del campo  $\mathbf{F}$ . Il suo dominio è  $\mathbb{R}^2$  e

$$\text{rot}(\mathbf{F})(x, y) = \frac{\partial F_2}{\partial x}(x, y) - \frac{\partial F_1}{\partial y}(x, y) = 1.$$

Quindi il campo  $\mathbf{F}$  non è irrotazionale.

Studiamo le proprietà della curva  $(\gamma, I)$ . La curva è chiusa, essendo  $\gamma(-1) = (0, 1) = \gamma(1)$ , e il sostegno è disegnato in figura 6. Per il calcolo del lavoro possiamo utilizzare la definizione o

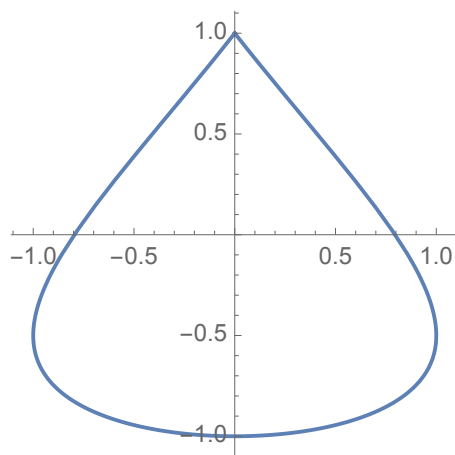


Figure 6: Il sostegno della curva  $(\gamma, I)$ .

il Teorema del Rotore, le cui ipotesi sono facilmente soddisfatte. Usando la definizione di lavoro scriviamo

$$\begin{aligned} L(\mathbf{F}, \gamma) &= \int_{-1}^1 \langle \mathbf{F}(\gamma(t)), \gamma'(t) \rangle dt = \int_{-1}^1 \left\langle \begin{pmatrix} -2 \sin(\pi t) \\ \sin(\pi t) + 5(2t^2 - 1) \end{pmatrix}, \begin{pmatrix} \pi \cos(\pi t) \\ 4t \end{pmatrix} \right\rangle dt = \\ &= \int_{-1}^1 \left( -2\pi \sin(\pi t) \cos(\pi t) + 4t \sin(\pi t) + 20t(2t^2 - 1) \right) dt = \int_{-1}^1 4t \sin(\pi t) dt \end{aligned}$$

infatti  $t(2t^2 - 1)$  e  $\sin(\pi t) \cos(\pi t)$  sono dispari, e quindi il loro integrale tra -1 e 1 è nullo. Dunque

$$L(\mathbf{F}, \gamma) = \int_{-1}^1 4t \sin(\pi t) dt = -\frac{4}{\pi} t \cos(\pi t) \Big|_{-1}^1 + \frac{4}{\pi} \int_{-1}^1 \cos(\pi t) dt = \frac{8}{\pi}.$$

Svolgendo l'esercizio usando il Teorema del Rotore, dobbiamo invece scrivere innanzitutto l'insieme  $U$ , la parte del piano racchiusa dalla curva, come insieme semplice. Dalla parametrizzazione si ottiene che per  $x \geq 0$ , il sostegno è il grafico della funzione  $x = \sin\left(\pi\sqrt{\frac{y+1}{2}}\right)$  con  $y \in [-1, 1]$ . Inoltre il sostegno è simmetrico rispetto all'asse delle ordinate. Possiamo concludere che

$$U = \left\{ (x, y) \in \mathbb{R}^2 : -1 \leq y \leq 1, -\sin\left(\pi\sqrt{\frac{y+1}{2}}\right) \leq x \leq \sin\left(\pi\sqrt{\frac{y+1}{2}}\right) \right\}$$

e scrivere quindi, osservando che la curva è percorsa in senso anti-orario,

$$\begin{aligned} L(\mathbf{F}, \gamma) &= \iint_U \text{rot}(\mathbf{F})(x, y) dx dy = \iint_U 1 dx dy = \\ &= \int_{-1}^1 \left( \int_{-\sin\left(\pi\sqrt{\frac{y+1}{2}}\right)}^{\sin\left(\pi\sqrt{\frac{y+1}{2}}\right)} 1 dx \right) dy = 2 \int_{-1}^1 \sin\left(\pi\sqrt{\frac{y+1}{2}}\right) dy \end{aligned}$$

e con il cambio di variabile  $t = \sqrt{\frac{y+1}{2}}$  si ottiene

$$L(\mathbf{F}, \gamma) = 2 \int_0^1 4t \sin(\pi t) dt = -\frac{8}{\pi} t \cos(\pi t) \Big|_0^1 + \frac{8}{\pi} \int_0^1 \cos(\pi t) dt = \frac{8}{\pi}$$

**Esercizio 3.** Calcolare l'area della superficie

$$\Sigma = \left\{ (x, y, z) \in \mathbb{R}^3 : x^2 + y^2 = 2z, x \geq 0, y \geq 0, 2z \leq 1, 2z \leq \frac{y^2}{x^2} \right\}$$

La superficie  $\Sigma$  è rappresentata in figura 7, ed è una parte del paraboloido  $x^2 + y^2 = 2z$ , che consideriamo come superficie di rotazione, ottenuta facendo ruotare intorno all'asse  $z$  il grafico della funzione  $g(z) = \sqrt{2z}$ , definita in  $(0, +\infty)$ . Se usiamo la parametrizzazione del paraboloido come

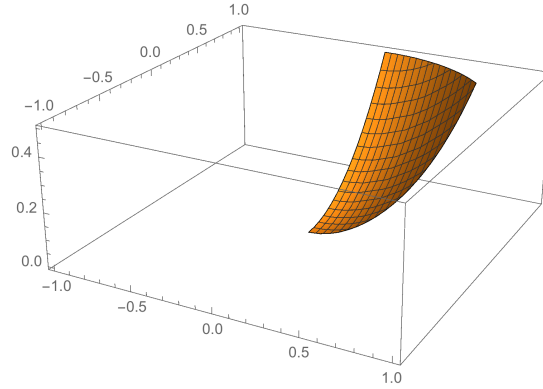


Figure 7: La superficie  $\Sigma$ .

superficie di rotazione, scriviamo che  $\Sigma = \sigma(D)$  dove

$$\sigma : D \rightarrow \mathbb{R}^3 \quad \text{con} \quad \sigma(t, \varphi) = (\sqrt{2t} \cos \varphi, \sqrt{2t} \sin \varphi, t)$$

e l'insieme  $D$  si ottiene come sottoinsieme di  $(0, +\infty) \times [0, 2\pi]$  aggiungendo le restrizioni nella definizione di  $\Sigma$ , dunque

$$D = \left\{ (t, \varphi) \in (0, +\infty) \times [0, 2\pi] : \sqrt{2t} \cos \varphi \geq 0, \sqrt{2t} \sin \varphi \geq 0, 2t \leq 1, 2t \leq \tan^2 \varphi \right\}$$

Le prime tre condizioni si riscrivono come

$$\varphi \in \left[0, \frac{\pi}{2}\right] \quad \text{e} \quad t \in \left[0, \frac{1}{2}\right],$$

e insieme all'ultima condizione, permettono di disegnare l'insieme  $D$  come in figura 8 (con  $t$  sulle ascisse e  $\varphi$  sulle ordinate). Per scriverlo come insieme semplice rispetto alla  $t$ , dobbiamo ricavare

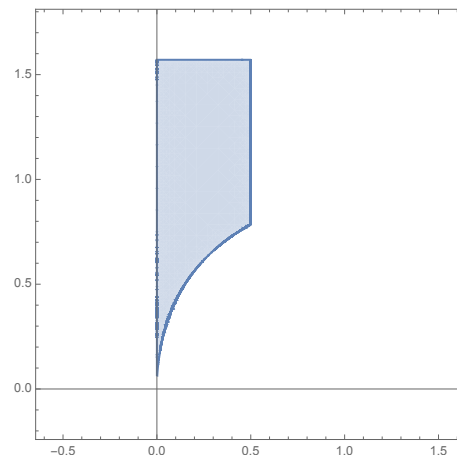


Figure 8: L'insieme  $D$ .

la soluzione di  $\frac{1}{2} \tan^2 \varphi = \frac{1}{2}$  in  $[0, \frac{\pi}{2}]$ , che è  $\bar{\varphi} = \frac{\pi}{4}$ . Quindi scriviamo  $D$  come

$$D = \left\{ (t, \varphi) : 0 \leq \varphi \leq \frac{\pi}{4}, 0 \leq t \leq \frac{1}{2} \tan^2 \varphi \right\} \cup \left\{ (t, \varphi) : \frac{\pi}{4} \leq \varphi \leq \frac{\pi}{2}, 0 \leq t \leq \frac{1}{2} \right\}$$

Infine ricordiamo che l'area di una superficie si calcola come

$$\text{Area}(\Sigma) = \iint_{\Sigma} 1 dS = \iint_D \|n(t, \varphi)\| dt d\varphi.$$

Dalla definizione di  $\sigma(t, \varphi)$  ricaviamo

$$J_{\sigma}(t, \varphi) = \begin{pmatrix} \frac{1}{\sqrt{2t}} \cos \varphi & -\sqrt{2t} \sin \varphi \\ \frac{1}{\sqrt{2t}} \sin \varphi & \sqrt{2t} \cos \varphi \\ 1 & 0 \end{pmatrix} \quad \text{e} \quad n(t, \varphi) = \begin{pmatrix} -\sqrt{2t} \cos \varphi \\ -\sqrt{2t} \sin \varphi \\ 1 \end{pmatrix}$$

Quindi

$$\|n(t, \varphi)\| = \sqrt{2t+1}$$

e abbiamo

$$\begin{aligned} \text{Area}(\Sigma) &= \iint_D \sqrt{2t+1} dt d\varphi = \\ &= \int_0^{\frac{\pi}{4}} \left( \int_0^{\frac{1}{2} \tan^2 \varphi} \sqrt{2t+1} dt \right) d\varphi + \int_{\frac{\pi}{4}}^{\frac{\pi}{2}} \left( \int_0^{\frac{1}{2}} \sqrt{2t+1} dt \right) d\varphi = \\ &= \int_0^{\frac{\pi}{4}} \frac{1}{3} (2t+1)^{\frac{3}{2}} \Big|_0^{\frac{1}{2} \tan^2 \varphi} d\varphi + \int_{\frac{\pi}{4}}^{\frac{\pi}{2}} \frac{1}{3} (2t+1)^{\frac{3}{2}} \Big|_0^{\frac{1}{2}} d\varphi = \\ &= \int_0^{\frac{\pi}{4}} \left( \frac{1}{3 \cos^3 \varphi} - \frac{1}{3} \right) d\varphi + \int_{\frac{\pi}{4}}^{\frac{\pi}{2}} \left( \frac{2^{\frac{3}{2}}}{3} - \frac{1}{3} \right) d\varphi = \\ &= \left[ \frac{1}{6} \left( \log \left( \frac{1 + \sin \varphi}{\cos \varphi} \right) + \frac{\sin \varphi}{\cos^2 \varphi} \right) - \frac{1}{3} \varphi \right] \Big|_0^{\frac{\pi}{4}} + \left( \frac{2\sqrt{2}}{3} - \frac{1}{3} \right) \varphi \Big|_{\frac{\pi}{4}}^{\frac{\pi}{2}} = \\ &= \frac{1}{6} \left( \log(\sqrt{2}+1) + \sqrt{2} + \pi(\sqrt{2}-1) \right). \end{aligned}$$